

ਦਫਤਰ ਡਾਇਰੈਕਟਰ ਐਸ.ਸੀ.ਈ.ਆਰ.ਟੀ. ਪੰਜਾਬ
ਬਲਾਕ-ਈ, ਪੀ.ਐਸ.ਈ.ਬੀ. ਕੰਪਲੈਕਸ, ਵਿੱਦਿਆ ਭਵਨ, ਛੇਵੀਂ ਮੰਜਿਲ, ਫੇਜ਼-8, ਮੋਹਾਲੀ
ਫੋਨ ਨੰ. 0172-2212221

ਵੱਲ


ਸਮੂਹ ਜਿਲ੍ਹਾ ਸਿੱਖਿਆ ਅਫਸਰ (ਸੈ.ਸਿੱ.),
ਸਮੂਹ ਸਕੂਲ ਮੁੱਖੀ (ਵੈਬਸਾਈਟ ਰਾਹੀਂ)
ਸਬੰਧਤ ਅਧਿਆਪਕ

ਮੀਮੋ ਨੰ: SCERT/EP/UP/2018 201838311 to 2018 38332
ਮਿਤੀ:- 27.08.2018 .

ਵਿਸ਼ਾ :- 8ਵੀਂ ਜਮਾਤ ਦਾ SA1, 2018-19 ਲਈ ਨਮੂਨੇ ਦਾ ਗਣਿਤ ਵਿਸ਼ੇ ਦੇ ਮਾਡਲ ਪ੍ਰਸ਼ਨ-ਪੱਤਰ ਸਬੰਧੀ।

- 1.0 ਉਪਰੋਕਤ ਵਿਸ਼ੇ ਵੱਲ ਧਿਆਨ ਦੇਣ ਦੀ ਖੋਚਲ ਕੀਤੀ ਜਾਵੇ ਜੀ।
- 2.0 ਮਾਣਯੋਗ ਸੱਕਤਰ ਸਕੂਲ ਸਿੱਖਿਆ ਪੰਜਾਬ ਜੀ ਦੇ ਆਦੇਸ਼ਾਂ ਹਿੱਤ, ਅੱਠਵੀਂ ਜਮਾਤ ਦਾ ਗਣਿਤ ਵਿਸ਼ੇ ਦਾ SA-1, 2018-19 ਲਈ ਮਾਡਲ ਪ੍ਰਸ਼ਨ-ਪੱਤਰ ਤਿਆਰ ਕੀਤਾ ਗਿਆ ਹੈ। ਇਸ ਨੂੰ ਅਧਿਆਪਕ ਵਰਗ ਅਤੇ ਵਿਦਿਆਰਥੀਆਂ ਦੀ ਸਹੂਲਤ ਲਈ www.ssapunjab.org ਦੀ website ਤੇ ਅਪਲੋਡ ਕੀਤਾ ਜਾ ਰਿਹਾ ਹੈ।

ਨੱਥੀ:- ਮਾਡਲ ਪ੍ਰਸ਼ਨ-ਪੱਤਰ ਅੱਠਵੀਂ ਵਿਸ਼ਾ ਗਣਿਤ।


ਡਾਇਰੈਕਟਰ
ਐਸ.ਸੀ.ਈ.ਆਰ.ਟੀ, ਪੰਜਾਬ
ਮ

ਮਾਡਲ ਪ੍ਰਸ਼ਨ ਪੱਤਰ

ਜਮਾਤ-ਅੱਠਵੀਂ(ਗਣਿਤ)

ਸਮਾਂ : 3 ਘੰਟੇ

SA - 1 (2018-19)

ਕੁੱਲ ਅੰਕ:80

ਜ਼ਰੂਰੀ ਨੋਟ:-

1. ਭਾਗ-ੳ ਪ੍ਰਸ਼ਨ 1 ਤੋਂ ਲੈ ਕੇ 8 ਤੱਕ ਇੱਕ ਅੰਕ ਵਾਲੇ ਹਨ ।
2. ਭਾਗ-ਅ ਪ੍ਰਸ਼ਨ 9 ਤੋਂ ਲੈ ਕੇ 16 ਤੱਕ ਦੋ ਅੰਕ ਵਾਲੇ ਹਨ ।
3. ਭਾਗ-ੲ ਪ੍ਰਸ਼ਨ 17 ਤੋਂ ਲੈ ਕੇ 24 ਤੱਕ ਚਾਰ ਅੰਕ ਵਾਲੇ ਹਨ । ਇਹਨਾਂ ਪ੍ਰਸ਼ਨਾਂ ਵਿੱਚ ਕਿਸੇ ਵੀ ਤਿੰਨ ਪ੍ਰਸ਼ਨਾਂ ਵਿੱਚ ਅੰਦਰੂਨੀ ਛੋਟ ਹੋਵੇਗੀ ।
4. ਭਾਗ-ਸ ਪ੍ਰਸ਼ਨ 25 ਤੋਂ ਲੈ ਕੇ 28 ਤੱਕ ਛੇ ਅੰਕ ਵਾਲੇ ਹਨ। ਇਹਨਾਂ ਸਾਰੇ ਪ੍ਰਸ਼ਨਾਂ ਵਿੱਚ ਅੰਦਰੂਨੀ ਛੋਟ ਹੋਵੇਗੀ ।


ਭਾਗ - ੳ

1. $\frac{-13}{19}$ ਦਾ ਗੁਣਾਤਮਕ ਉਲਟ ਕੀ ਹੋਵੇਗਾ?

- (A) $\frac{13}{-19}$ (B) $\frac{13}{19}$ (C) $\frac{19}{-13}$ (D) $\frac{-19}{13}$

2. ਚਿੱਤਰ ਵਿੱਚ ਤੱਕੜੀ ਵਿੱਚ x ਦਾ ਮੁੱਲ ਕੀ ਹੈ?

- (A) 11 (B) -5 (C) 5 (D) -11



3. 846 ਦੇ ਵਿੱਚ 8 ਦਾ ਸਥਾਨਕ ਮੁੱਲ 80 ਹੈ। (ਸਹੀ ਜਾਂ ਗਲਤ)

4. $3^{-2} = 9$ ਹੈ (ਸਹੀ ਜਾਂ ਗਲਤ)

5. 64 ਦਾ ਵਰਗਮੂਲ ਪਤਾ ਕਰੋ।

6. ਹੱਲ ਕਰੋ: $\frac{3}{7} + \frac{2}{5}$

7. ਜੇਕਰ ਖੰਡ ਦਾ ਮੁੱਲ ਅਤੇ ਖੰਡ ਦੀ ਮਾਤਰਾ ਸਿੱਧੇ ਅਨੁਪਾਤ ਵਿੱਚ ਹੈ ਤਾਂ ਸਾਰਨੀ ਪੂਰੀ ਕਰੋ :

ਖੰਡ ਦਾ ਭਾਰ ਕਿਲੋਗ੍ਰਾਮ ਵਿੱਚ	1	2	3
ਖੰਡ ਦਾ ਮੁੱਲ ਰੁਪਏ ਵਿੱਚ	30	_____	90

8. ਸਿਫਰ ਦਾ ਉਲਟਕ੍ਰਮ _____ ਹੈ ।

(8x1 = 8)

ਭਾਗ - ਅ

9. -2 ਨਾਲੋਂ ਵੱਡੀਆਂ ਪੰਜ ਪਰਿਮੇਯ ਸੰਖਿਆਵਾਂ ਲਿਖੋ।

10. $7x-9 = 16$ ਨੂੰ ਹੱਲ ਕਰੋ।

11. ਨਾਲ ਦਿੱਤੇ ਚਿੱਤਰ ਵਿੱਚ A ਅਤੇ B ਲਈ ਪਰਿਮੇਯ ਸੰਖਿਆਵਾਂ ਲਿਖੋ।



12. 325 ਕਿਤਾਬਾਂ ਦੀ ਕੀਮਤ 9100 ਰੁ. ਹੈ, ਅਜਿਹੀ ਇੱਕ ਕਿਤਾਬ ਦੀ ਕੀਮਤ ਪਤਾ ਕਰੋ?


13. 15625 ਦਾ ਘਣਮੂਲ ਅਭਾਜ ਗੁਣਨਖੰਡ ਵਿਧੀ ਰਾਹੀਂ ਪਤਾ ਕਰੋ।

14. ਹੇਠਾਂ ਕੁੱਝ ਤੁਲ ਭਿੰਨਾਂ ਦਿੱਤੀਆਂ ਗਈਆਂ ਹਨ ਇਹਨਾਂ ਵਿੱਚ ਖਾਲੀ ਬਕਸਿਆਂ ਨੂੰ ਭਰੋ:


$$\frac{5}{7} = \frac{20}{\square} = \frac{35}{49} = \frac{\square}{63}$$

15. 10 ਵੱਖ-ਵੱਖ ਪਰਚੀਆਂ 'ਤੇ 1 ਤੋਂ 10 ਤੱਕ ਸੰਖਿਆਵਾਂ ਲਿਖੀਆਂ ਹੋਈਆਂ ਹਨ। (ਇੱਕ ਪਰਚੀ 'ਤੇ ਇੱਕ ਸੰਖਿਆ), ਉਸਨੂੰ ਇੱਕ ਬਕਸੇ ਵਿੱਚ ਰੱਖ ਕੇ ਚੰਗੀ ਤਰ੍ਹਾਂ ਮਿਲਾ ਦਿੱਤਾ ਜਾਂਦਾ ਹੈ। ਬਕਸੇ ਦੇ ਅੰਦਰ ਦੇਖੇ ਬਿੰਨਾਂ ਇੱਕ ਪਰਚੀ ਕੱਢੀ ਜਾਂਦੀ ਹੈ। ਹੇਠਾਂ ਲਿਖਿਆਂ ਦੀ ਸੰਭਾਵਨਾ ਕੀ ਹੈ?

- (i) ਸੰਖਿਆ 6 ਪ੍ਰਾਪਤ ਕਰਨਾ।
- (ii) 6 ਤੋਂ ਛੋਟੀ ਇੱਕ ਸੰਖਿਆ ਪ੍ਰਾਪਤ ਕਰਨਾ।



16. ਦਿੱਤੇ ਗਏ ਚਿੱਤਰ ਵਿੱਚ ਕਿਹੜੀਆਂ ਦੋ ਭਿੰਨਾਂ ਦੀ ਗੁਣਾ ਦਰਸਾਈ ਗਈ ਹੈ



(8x2 = 16)

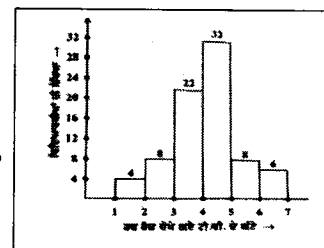
ਭਾਗ-ਬ

17. $\frac{6}{13}$ ਨੂੰ $\frac{-7}{16}$ ਦੇ ਉਲਟਕ੍ਰਮ ਨਾਲ ਗੁਣਾ ਕਰੋ।

18. ਜੇਕਰ ਇੱਕ ਖੰਬੇ ਦਾ $\frac{3}{8}$ ਭਾਗ ਜ਼ਮੀਨ ਦੇ ਅੰਦਰ ਹੋਵੇ ਤਾਂ ਦੱਸੋ ਖੰਬੇ ਦਾ ਕਿੰਨਾ ਭਾਗ ਜ਼ਮੀਨ ਦੇ ਉੱਪਰ ਹੈ ?

19. ਦਿੱਤੇ ਚਿੱਤਰ ਵਿੱਚੋਂ ਹੇਠ ਲਿਖੇ ਪ੍ਰਸ਼ਨਾਂ ਦੇ ਉੱਤਰ ਦਿਓ।

- (i) ਸਭ ਤੋਂ ਵੱਧ ਵਿਦਿਆਰਥੀਆਂ ਨੇ ਕਿੰਨੇ ਘੰਟੇ ਤੱਕ ਟੀ. ਵੀ. ਦੇਖਿਆ?
- (ii) 4 ਘੰਟਿਆਂ ਤੋਂ ਘੱਟ ਸਮੇਂ ਤੱਕ ਕਿੰਨੇ ਵਿਦਿਆਰਥੀਆਂ ਨੇ ਟੀ. ਵੀ. ਦੇਖਿਆ ?
- (iii) ਕਿੰਨੇ ਵਿਦਿਆਰਥੀ ਟੀ.ਵੀ. 5 ਘੰਟੇ ਤੋਂ ਜ਼ਿਆਦਾ ਸਮਾਂ ਦੇਖਦੇ ਹਨ?



ਜਾਂ

ਹੇਠ ਲਿਖਿਆਂ ਦਾ ਮੁੱਲ ਪਤਾ ਕਰੋ।

(i) $25.65 + 9.005 + 37$

(ii) $31.05 - 16.28$

20. ਸਭ ਤੋਂ ਛੋਟੀ ਵਰਗ ਸੰਖਿਆ ਪਤਾ ਕਰੋ ਜੋ ਕਿ 4, 9 ਅਤੇ 10 ਹਰੇਕ ਨਾਲ ਵੰਡੀ ਜਾ ਸਕੇ।

ਜਾਂ

ਰੀਟਾ ਦੇ ਘਰ ਅਤੇ ਦਫਤਰ ਵਿਚਕਾਰ ਦੀ ਦੂਰੀ 14 ਕਿ.ਮੀ. ਹੈ, ਜੇਕਰ ਉਹ 10 ਕਿ.ਮੀ. 65 ਮੀ. ਸਕੂਟਰ ਰਾਹੀਂ ਅਤੇ 3 ਕਿ.ਮੀ. 75 ਮੀ. ਬਸ ਰਾਹੀਂ ਅਤੇ ਬਾਕੀ ਦੂਰੀ ਪੈਦਲ ਚੱਲਦੀ ਹੈ ਤਾਂ ਦੱਸੋ ਉਹ ਕਿੰਨਾ ਰਸਤਾ ਪੈਦਲ ਚੱਲੀ?

21. ਵੰਡ ਵਿਧੀ ਰਾਹੀਂ ਸੰਖਿਆ '3481' ਦਾ ਵਰਗਮੂਲ ਪਤਾ ਕਰੋ।

22. 'm' ਦਾ ਮੁੱਲ ਪਤਾ ਕਰੋ ਜਿਸ ਲਈ $5^m \div 5^{-3} = 5^5$ ਹੈ।

ਜਾਂ

ਮਿਲਾਨ ਕਰੋ

(i) $\frac{a^m}{a^n}$ $\left(\frac{a}{b}\right)^m$


(ii) $(a^m)^n$ $(ab)^m$

(iii) $a^m \times b^m$ a^{mn}

(iv) $\frac{a^m}{b^m}$ a^{m-n}

23. ਮੁੱਲ ਪਤਾ ਕਰੋ : $\frac{1}{3^{-2}}$

24. ਚਿੱਤਰ ਵਿੱਚ ਇੱਕ 14 ਮੀਟਰ ਉੱਚੇ ਬਿਜਲੀ ਦੇ ਖੰਭੇ ਦਾ ਪਰਛਾਵਾਂ 10 ਮੀਟਰ ਹੈ। ਸਮਾਨ ਸਥਿਤੀਆਂ ਵਿੱਚ ਉਸ ਦੱਰਖਤ ਦੀ ਉਚਾਈ ਪਤਾ ਕਰੋ ਜਿਸ ਦਾ ਪਰਛਾਵਾਂ 15 ਮੀਟਰ ਹੈ।






$(8 \times 4 = 32)$

ਭਾਗ- ਸ

25. 360 ਵਿਅਕਤੀਆਂ ਦੇ ਇੱਕ ਗੁੱਟ ਵਿੱਚ ਤਿੰਨ ਰੁੱਤਾਂ-ਵਰਖਾ, ਸਰਦੀ ਅਤੇ ਗਰਮੀ ਵਿੱਚ ਆਪਣੀ ਮਨਪਸੰਦ ਰੁੱਤ ਦੇ ਲਈ ਵੋਟਾਂ ਕਰਨ ਨੂੰ ਕਿਹਾ ਗਿਆ। ਇਸ ਨਾਲ ਪ੍ਰਾਪਤ ਅੰਕੜਿਆਂ ਨੂੰ ਨਾਲ ਦਿੱਤੇ ਚਿੱਤਰ ਵਿੱਚ ਦਰਸਾਇਆ ਗਿਆ ਹੈ:

- (i) ਕਿਸ ਰੁੱਤ ਨੂੰ ਸਭ ਤੋਂ ਜ਼ਿਆਦਾ ਵੋਟ ਮਿਲੇ?
- (ii) ਹਰੇਕ ਚੱਕਰਖੰਡ ਦਾ ਕੇਂਦਰੀ ਕੋਣ ਪਤਾ ਕਰੋ।
- (iii) ਇਸ ਸੂਚਨਾ ਨੂੰ ਦਰਸਾਉਣ ਦੇ ਲਈ, ਇੱਕ ਪਾਈ ਚਾਰਟ ਬਣਾਓ।

Season	No. of votes
Summer 	90
Rainy 	120
Winter 	150

ਜਾਂ

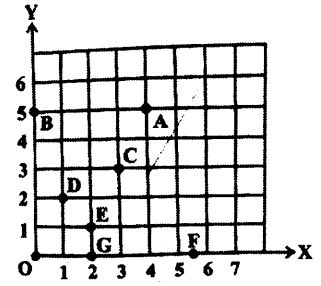
ਚਿੱਤਰ ਦੇਖ ਕੇ ਹੇਠਾਂ ਦਿੱਤੇ ਬਿੰਦੂਆਂ ਦੀ ਸਥਿਤੀ ਲਈ ਸਹੀ ਅੱਖਰ ਚੁਣੋ।

(i) (2,1) (ii) (0,5) (iii) (2,0) ਅਤੇ ਲਿਖੋ

(iv) ਬਿੰਦੂ A ਦੇ ਨਿਰਦੇਸ਼ ਅੰਕ ਲਿਖੋ

(v) ਬਿੰਦੂ F ਦੇ ਨਿਰਦੇਸ਼ ਅੰਕ ਲਿਖੋ

(vi) ਕਿਹੜੇ ਤਿੰਨ ਬਿੰਦੂ ਇੱਕ ਸਰਲ ਰੇਖਾ ਵਿੱਚ ਹੈ?



26. ਸੰਖਿਆ 1989 ਵਿੱਚੋਂ ਕਿਹੜੀ ਛੋਟੀ ਤੋਂ ਛੋਟੀ ਸੰਖਿਆ ਘਟਾਈ ਜਾਵੇ ਕਿ ਇਹ ਇੱਕ ਪੂਰਨ ਵਰਗ ਸੰਖਿਆ ਬਣ ਜਾਵੇ। ਇਸ ਤਰ੍ਹਾਂ ਬਣੀ ਪੂਰਨ ਵਰਗ ਸੰਖਿਆ ਦਾ ਵਰਗਮੂਲ ਵੀ ਪਤਾ ਕਰੋ।

ਜਾਂ

ਉਹ ਛੋਟੀ ਤੋਂ ਛੋਟੀ ਸੰਖਿਆ ਪਤਾ ਕਰੋ ਜਿਸ ਨਾਲ ਸੰਖਿਆ 128 ਨੂੰ ਵੰਡਣ ਤੇ ਭਾਗਫਲ ਇੱਕ ਪੂਰਨ ਘਣ ਸੰਖਿਆ ਪ੍ਰਾਪਤ ਹੋ ਜਾਵੇ।

27. ਅਨੂ ਅਤੇ ਰਾਜ ਦੀ ਵਰਤਮਾਨ ਉਮਰ ਦਾ ਅਨੁਪਾਤ 4 : 5 ਹੈ। 8 ਸਾਲ ਬਾਅਦ ਉਨ੍ਹਾਂ ਦੀ ਉਮਰ ਦਾ ਅਨੁਪਾਤ 5 : 6 ਹੋਵੇਗਾ। ਉਹਨਾਂ ਦੀ ਵਰਤਮਾਨ ਉਮਰ ਪਤਾ ਕਰੋ।

ਜਾਂ

ਹਿਰਨਾਂ ਦੇ ਇੱਕ ਝੁੰਡ ਦਾ ਅੱਧਾ ਭਾਗ ਮੈਦਾਨ ਵਿੱਚ ਚਰ ਰਿਹਾ ਹੈ ਅਤੇ ਬਾਕੀ ਦਾ ਤਿੰਨ ਚੌਥਾਈ ਨੇੜੇ ਖੇਡ ਰਿਹਾ ਹੈ। ਬਾਕੀ ਬਚੇ 9 ਹਿਰਨ ਇੱਕ ਤਲਾਬ ਵਿੱਚ ਪਾਣੀ ਪੀ ਰਹੇ ਸਨ। ਝੁੰਡ ਵਿੱਚ ਹਿਰਨਾਂ ਦੀ ਸੰਖਿਆ ਪਤਾ ਕਰੋ।

28. ਹੱਲ ਕਰੋ : $\frac{7y+4}{y+2} = \frac{-4}{3}$

ਜਾਂ

(i) ਹੱਲ ਕਰੋ $2\frac{5}{7} - 3\frac{4}{7}$

(ii) 15 ਸੈਂਟੀਮੀਟਰ ਨੂੰ ਮੀਟਰ ਵਿੱਚ ਬਦਲੋ।

(iii) $\frac{2}{7}$, $\frac{6}{7}$, $\frac{5}{7}$ ਅਤੇ $\frac{3}{7}$ ਨੂੰ ਵੱਧਦੇ ਕ੍ਰਮ ਵਿੱਚ ਲਿਖੋ।

(4 x 6 = 24)